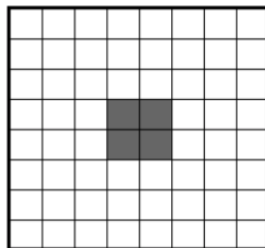
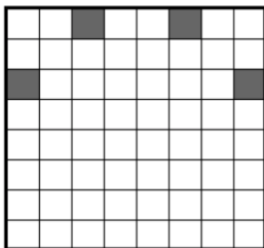
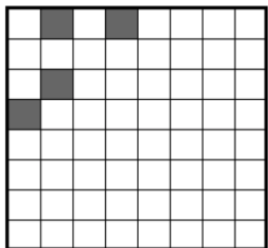


Добавочка

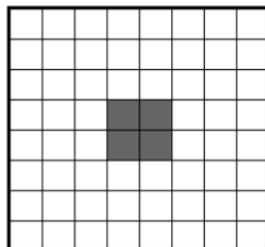
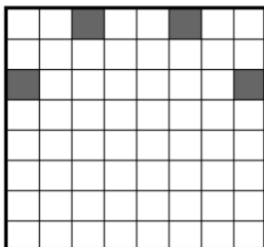
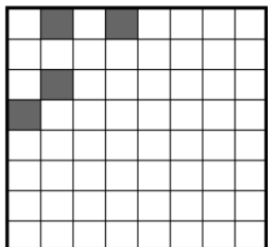
1. Сколькими способами можно разрезать прямоугольник 3×5 на различные пентаминошки? Приведите их все.
2. Из квадрата 8×8 вырезали 4 клетки. Можно ли оставшуюся доску разрезать на различные пентаминошки?



3. Составьте из фигурок пентамино прямоугольник 6×10 , используя каждую ровно один раз.

Добавочка

1. Сколькими способами можно разрезать прямоугольник 3×5 на различные пентаминошки? Приведите их все.
2. Из квадрата 8×8 вырезали 4 клетки. Можно ли оставшуюся доску разрезать на различные пентаминошки?



3. Составьте из фигурок пентамино прямоугольник 6×10 , используя каждую ровно один раз.