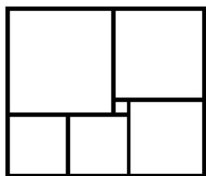


Пусть x — это ...

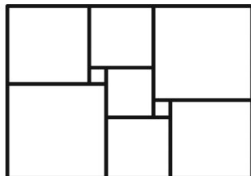
5–6 класс

31.10.17

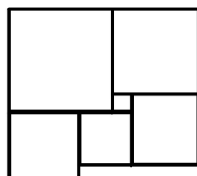
1. Лиза на 8 лет старше Насти. Два года назад ей было втрое больше лет, чем Насте. Сколько лет Лизе?
2. На лужайке росли 35 жёлтых и белых одуванчиков. После того как 8 белых облетели, а 2 жёлтых побелели, жёлтых одуванчиков стало вдвое больше, чем белых. Сколько белых и сколько жёлтых одуванчиков росло на лужайке вначале?
3. Остап Бендер в интервью шахматному журналу о сеансе одновременной игры в Васюках сообщил, что в одной из партий у него осталось фигур в три раза меньше, чем у соперника и в шесть раз меньше, чем свободных клеток на доске, а в другой партии, фигур у него осталось в пять раз меньше, чем у соперника, и в десять раз меньше, чем свободных клеток на доске и все-таки он сумел выиграть обе партии.
(а) Можно ли верить его рассказу про первую партию?
(б) А про вторую?
4. В комнате стоят трехногие табуретки и четырехногие стулья. Когда на все эти сидячие места уселись люди, в комнате оказалось 39 ног. Сколько в комнате табуреток?
5. У маленького квадрата сторона равняется 1.
(а) – (б) Найдите стороны большого прямоугольника.
(с) Найдите сторону левого нижнего квадрата.



(а)



(б)



(с)

6. Король сказал королеве: «Сейчас мне вдвое больше лет, чем было Вам тогда, когда мне было столько лет, сколько Вам теперь. Когда же Вам будет столько лет, сколько мне теперь, нам вместе будет шестьдесят три года». Интересно, сколько лет каждому из них?