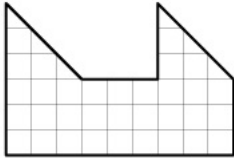


Разрезания

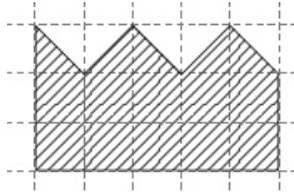
5-6 класс

8.09.17

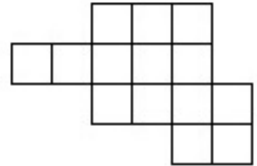
1. Разрежьте фигуры, изображенные на рисунках, на две равные части.



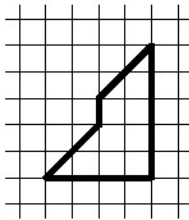
(a)



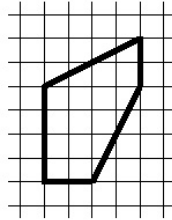
(b)



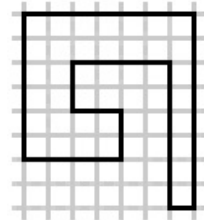
(c)



(d)

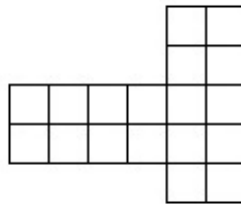


(e)



(f)

2. Разрежьте данную фигуру (см. рисунок) на три равных фигуры.



3. Разрежьте фигуру (см. рисунок) по линиям сетки на 4 равные фигуры.

